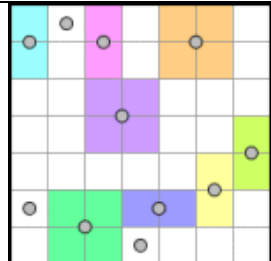
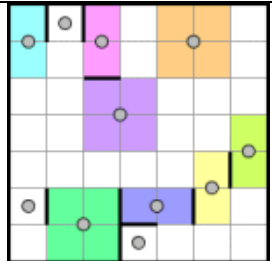
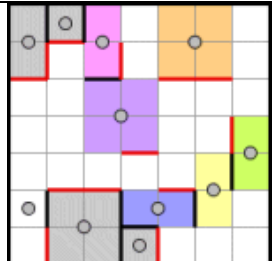
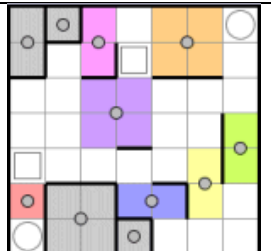
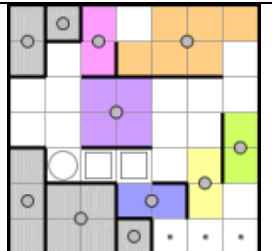


Lösungstipps für den Rätseltyp „Galaxien“

<p>Schritt 1: Alle Felder, die einen Punkt gemeinsam haben, müssen zur gleichen Galaxis gehören, dementsprechende Felder mit gleicher Farbe markieren.</p>	<p>Schritt 2: Überall dort, wo zwei Galaxien aufeinanderstoßen, kann man eine Grenze einzeichnen, von den ungefärbten auch beachten!</p>	<p>Schritt 3: Sind einige Grenzen bekannt, kann man auch die sich durch Symmetrie bezüglich des Mittelpunkts ergebende Grenzen einer Galaxis einzeichnen, Rand auch eine Grenze!</p>
		

<p>Schritt 4: Weitere Zuordnungen ergeben sich aus der Antwort auf die Frage: "Zu welcher Galaxis kann ein bestimmtes Feld gehören?" Gibt es nur einen einzigen Kandidaten, dann ist die Zuordnung eindeutig.</p>	<p>Schritt 5: Die mit Quadraten markierten Felder verbinden das Kreisfeld mit den blauen Feldern. Die mit Quadraten markierten Felder verbinden das Kreisfeld mit den blauen Feldern.</p>	
		<h1>FERTIG!!!</h1>